


### Тестовые задания

Определите один правильный ответ.  
За правильный ответ начисляется 2 балла.

1. Что означает следующий символ, используемый в международной кодовой таблице сигналов бедствия?

- а) нужны медикаменты  
б) нужны оружие и боеприпасы  
в) нужны компас и карты  
г) нужны продовольствие и вода



2. На компасе Адрианова азимут на север равен

- а)  $90^\circ$   
б)  $360^\circ$   
в)  $180^\circ$   
г)  $270^\circ$

3. При утечке газ пропан

- а) поднимается вверх  
б) опускается вниз  
в) стелется по земле  
г) растворяется в воздухе

4. Как расшифровывается аббревиатура «МЧС»?

- а) Министерство Российской Федерации по делам гражданской обороны, чрезвычайным ситуациям и ликвидации последствий стихийных бедствий  
б) Министерство России по делам гражданской обороны, чрезвычайным ситуациям и ликвидации последствий стихийных бедствий  
в) Министерство Российской Федерации по чрезвычайным ситуациям и ликвидации последствий стихийных бедствий  
г) Министерство России по делам гражданской обороны и ликвидации последствий стихийных бедствий

5. Для чего применяется дезинсекция?


- а) для удаления радиоактивных веществ  
б) для удаления опасных и токсических химических веществ  
в) для уничтожения насекомых — переносчиков инфекционных заболеваний  
г) для уничтожения грызунов — переносчиков инфекционных заболеваний

6. Скорость урагана достигает

- а) 110 км/ч  
б) 101 км/ч  
в) 62 км/ч  
г) 120 км/ч

7. Вязка какого узла изображена на рисунке?

- 2
- а) бабьего
  - б)  прямого
  - в) фламандского
  - г) дубового



8. Верны ли приведённые суждения?

- А) Никотин является опасным растительным ядом.
  - Б) Никотин в малых дозах возбуждает, а в больших дозах тормозит деятельность клеток центральной нервной системы
- а) верно только А
  - б) верно только Б
  - в)  верны оба суждения
  - г) оба суждения неверны

9. Какой признак указывает на повреждение спинного мозга при травме позвоночника?

- а) рана в области позвоночника
- б) кровоизлияние в области позвоночника
- в) резкая боль в области позвоночника
- г)  отсутствие движения в конечностях ниже места повреждения

10. Какое мероприятие первой помощи выполняют при отсутствии пострадавшего сознания (при наличии пульса и дыхания)?

- а) приподнимают ноги
- б) проводят компрессии на грудную клетку
- в) выполняют сердечно-лёгочную реанимацию
- г)  переводят пострадавшего в устойчивое боковое положение

**Определите все правильные ответы.**  
*За каждый правильный ответ начисляется 2 балла.*

11. **Что из перечисленного относится к личному снаряжению в туристическом походе?**  
а) рюкзак  
б) палатка  
в) тент  
г) котелок  
д) кружка
- 2
12. **Какое смысловое значение несёт красный цвет, используемый в знаках безопасности?**  
а) непосредственная опасность  
б) аварийная или опасная ситуация  
в) возможная опасность  
г) предписание во избежание опасности  
д) указание
- 4
13. **К относительно безопасным бытовым химикатам можно отнести**  
а) стиральные порошки  
б) отбеливающие средства  
в) мыло  
г) растворители  
д) препараты для борьбы с насекомыми
- 4
14. **По причинам возникновения чрезвычайные ситуации подразделяют на**  
а) экологические  
б) технологические  
в) социальные  
г) дорожные  
д) криминальные
- 4
15. **При падении в толпе в первую очередь необходимо:**  
а) как можно быстрее встать  
б) постараться на четвереньках отползти в укрытие  
в) защитить голову руками  
г) защитить подручными предметами живот  
д) поднять руку, привлекая внимание

16. **К видам наводнений относятся**

- У
- а) ветровой нагон
  - б) зажор
  - в) сильный тягун
  - г) низкие уровни воды
  - д) осенний тягун

17. **Какие действия запрещается выполнять при ожоге конечности с повреждением целостности кожи?**

- У
- а) отрывать прилипшую одежду
  - б) охлаждать, приложив холод через стерильную (чистую) ткань
  - в) охлаждать под струёй воды
  - г) накладывать нетугую повязку
  - д) давать питьё

18. **Какие календари профилактических прививок утверждены Министерством здравоохранения РФ?**

- У
- а) календарь путешественников
  - б) национальный календарь
  - в) профессиональный календарь
  - г) по эпидемическим показаниям
  - д) детский календарь

19. **Какие признаки характерны для гипотермии средней степени тяжести (температура тела 30-34 °С)?**

- У
- а) мышечное окоченение
  - б) озноб, мышечная дрожь
  - в) замедление сердечного ритма
  - г) учащение сердечного ритма
  - д) возбуждение, беспокойство

20. **Какие из перечисленных средств отсутствуют в аптечке первой помощи (автомобильной), но входят в состав аптечки для оказания первой помощи работникам?**

- У
- а) жгут кровоостанавливающий
  - б) медицинские перчатки
  - в) устройство для проведения искусственного дыхания «рот—устройство—рот»
  - г) покрывало спасательное изотермическое
  - д) маска медицинская трёхслойная

## Теоретические задания

### Задание 1

Перечислите, состоящие из десяти пунктов, рекомендации полиции, которые помогут уберечься от воров-карманников.

(За задания 10 баллов)

- 1 Быть внимательным в переполненной транспорте, при посещении магазинов или других людных мест
- 2 Обращать внимание на то чтобы кошелек не выдвигался из одежды и тем самым не привлекало к себе внимание
- 3

## Задание 2

Укажите знаком «+» в крайнем левом или крайнем правом столбце, какие из ситуаций, изображённых на картинках, относятся к опасным, а какие к экстремальным?

(За задания 10 баллов)

Опасная ситуация	Изображение	Экстремальная
		+
+		
		+
+		
		+


Максимум за задания 80 баллов

### Тестовые задания

Определите один правильный ответ.  
За правильный ответ начисляется 2 балла.

1. Что означает следующий символ, используемый в международной кодовой таблице сигналов бедствия?

- а) нужны медикаменты  
б) нужны оружие и боеприпасы  
в) нужны компас и карты  
г) нужны продовольствие и вода



2. На компасе Адрианова азимут на север равен

- а)  $90^\circ$   
б)  $360^\circ$   
в)  $180^\circ$   
г)  $270^\circ$

3. При утечке газ пропан

- а) поднимается вверх  
б) опускается вниз  
в) стелется по земле  
г) растворяется в воздухе

4. Как расшифровывается аббревиатура «МЧС»?

- а) Министерство Российской Федерации по делам гражданской обороны, чрезвычайным ситуациям и ликвидации последствий стихийных бедствий  
б) Министерство России по делам гражданской обороны, чрезвычайным ситуациям и ликвидации последствий стихийных бедствий  
в) Министерство Российской Федерации по чрезвычайным ситуациям и ликвидации последствий стихийных бедствий  
г) Министерство России по делам гражданской обороны и ликвидации последствий стихийных бедствий

5. Для чего применяется дезинсекция?


- а) для удаления радиоактивных веществ  
б) для удаления опасных и токсических химических веществ  
в) для уничтожения насекомых — переносчиков инфекционных заболеваний  
г) для уничтожения грызунов — переносчиков инфекционных заболеваний

6. Скорость урагана достигает

- а) 110 км/ч  
б) 101 км/ч  
в) 62 км/ч  
г) 120 км/ч

7. Вязка какого узла изображена на рисунке?

- а) бабьего  
б) прямого  
в) фламандского  
г) дубового



8. Верны ли приведённые суждения?

- А) Никотин является опасным растительным ядом.  
Б) Никотин в малых дозах возбуждает, а в больших дозах тормозит деятельность клеток центральной нервной системы

- а) верно только А  
б) верно только Б  
в) верны оба суждения  
г) оба суждения неверны

9. Какой признак указывает на повреждение спинного мозга при травме позвоночника?

- а) рана в области позвоночника  
б) кровоизлияние в области позвоночника  
в) резкая боль в области позвоночника  
г) отсутствие движения в конечностях ниже места повреждения

10. Какое мероприятие первой помощи выполняют при отсутствии пострадавшего сознания (при наличии пульса и дыхания)?

- а) приподнимают ноги  
б) проводят компрессии на грудную клетку  
в) выполняют сердечно-лёгочную реанимацию  
г) переводят пострадавшего в устойчивое боковое положение



**Определите все правильные ответы.**

*За каждый правильный ответ начисляется 2 балла.*

11. **Что из перечисленного относится к личному снаряжению в туристическом походе?**

- 25
- а) рюкзак
  - б) палатка
  - в) тент
  - г) котелок
  - д) кружка

12. **Какое смысловое значение несёт красный цвет, используемый в знаках безопасности?**

- 25
- а) непосредственная опасность
  - б) аварийная или опасная ситуация
  - в) возможная опасность
  - г) предписание во избежание опасности
  - д) указание

13. **К относительно безопасным бытовым химикатам можно отнести**

- 25
- а) стиральные порошки
  - б) отбеливающие средства
  - в) мыло
  - г) растворители
  - д) препараты для борьбы с насекомыми

14. **По причинам возникновения чрезвычайные ситуации подразделяют на**

- 25
- а) экологические
  - б) технологические
  - в) социальные
  - г) дорожные
  - д) криминальные

15. **При падении в толпе в первую очередь необходимо:**

- 25
- а) как можно быстрее встать
  - б) постараться на четвереньках отползти в укрытие
  - в) защитить голову руками
  - г) защитить подручными предметами живот
  - д) поднять руку, привлекая внимание

16. **К видам наводнений относятся**

- 25
- а) ветровой нагон
  - б) зажор
  - в) сильный тягун
  - г) низкие уровни воды
  - д) осенний тягун

17. **Какие действия запрещается выполнять при ожоге конечности с повреждением целостности кожи?**

- 25
- а) отрывать прилипшую одежду
  - б) охлаждать, приложив холод через стерильную (чистую) ткань
  - в) охлаждать под струёй воды
  - г) накладывать нетугую повязку
  - д) давать питьё

18. **Какие календари профилактических прививок утверждены Министерством здравоохранения РФ?**

- 25
- а) календарь путешественников
  - б) национальный календарь
  - в) профессиональный календарь
  - г) по эпидемическим показаниям
  - д) детский календарь

19. **Какие признаки характерны для гипотермии средней степени тяжести (температура тела 30-34 °С)?**

- 25
- а) мышечное окоченение
  - б) озноб, мышечная дрожь
  - в) замедление сердечного ритма
  - г) учащение сердечного ритма
  - д) возбуждение, беспокойство

20. **Какие из перечисленных средств отсутствуют в аптечке первой помощи (автомобильной), но входят в состав аптечки для оказания первой помощи работникам?**

- 25
- а) жгут кровоостанавливающий
  - б) медицинские перчатки
  - в) устройство для проведения искусственного дыхания «рот—устройство—рот»
  - г) покрывало спасательное изотермическое
  - д) маска медицинская трёхслойная

## Теоретические задания

### Задание 1

Перечислите, состоящие из десяти пунктов, рекомендации полиции, которые помогут уберечься от воров-карманников.

(За задания 10 баллов)






1. Быть внимательным на улице в транспорте, в общественных местах.
2. Не носить ценные вещи в плохо защищенных сумках.
3. Закрывать карманы с вещами.
4. Не ходить по улице в темное время суток.
5. Не выделаться, чтобы не привлечь внимание мошенников.

55

## Задание 2

Укажите знаком «+» в крайнем левом или крайнем правом столбце, какие из ситуаций, изображённых на картинках, относятся к опасным, а какие к экстремальным?

(За задания 10 баллов)

Опасная ситуация	Изображение	Экстремальная
		
		
		
		
		

Максимум за задания 80 баллов

Задание 2

Тестовые задания

*Определите один правильный ответ.  
За правильный ответ начисляется 2 балла.*

1. **Одной из причин гибели людей при пожаре является отравление:**
  - а) двуокисью углерода
  - б) оксидом серы
  - в) альдегидами
  - г) оксидом углерода
  
2. **На компасе Адрианова азимут на восток равен**
  - а)  $90^\circ$
  - б)  $360^\circ$
  - в)  $180^\circ$
  - г)  $270^\circ$
  
3. **К каким загрязнителям относятся ксенобиотики?**
  - а) химическим
  - б) физическим
  - в) биологическим
  - г) информационным
  
4. **Как расшифровывается аббревиатура «РСЧС»?**
  - а) Государственная система предупреждения и ликвидации чрезвычайных ситуаций
  - б) Единая государственная система по делам гражданской обороны и ликвидации чрезвычайных ситуаций
  - в) Единая государственная система предупреждения и ликвидации чрезвычайных ситуаций
  - г) Российская система предупреждения и ликвидации чрезвычайных ситуаций
  
5. **Дегазация применяется для удаления**
  - а) радиоактивных веществ
  - б) опасных и токсических химических веществ

Задание 2

- в) переносчиков инфекционных болезней
- г) ядовитых и заболевших растений

6. Рухнуло ветхое здание, из которого выселены все жильцы. такая ситуация называется
- а) чрезвычайной
  - б) экстремальной
  - в) опасной
  - г) аварийной
7. Какому уровню террористической опасности соответствует «жёлтый» цвет?
- а) постоянному
  - б) повышенному
  - в) высокому
  - г) критическому
8. Какие пищевые вещества составляют основную часть суточного рациона человека?
- а) белки
  - б) жиры
  - в) углеводы
  - г) витамины
9. Какое мероприятие выполняется после проведения простых медицинских манипуляции, соответствующих состоянию пострадавшего?
- а) контроль за состоянием пострадавшего
  - б) создание безопасных условий для оказания первой помощи
  - в) придание пострадавшему оптимального положения тела
  - г) передача пострадавшего бригаде скорой медицинской помощи
10. Сколько и какие суставы нужно иммобилизовать при переломе плеча?
- а) один (локтевой сустав)
  - б) два (плечевой и локтевой суставы)
  - в) два (локтевой и лучезапястный суставы)
  - г) три (плечевой, локтевой и лучезапястный суставы)

Задание 2

*Определите все правильные ответы  
За каждый правильный ответ начисляется 2 балла.*

11. **Что из перечисленного входит в носимый аварийный запас (НАЗ) с предметами первой необходимости?**
- а) спички
  - б) котелок
  - в) туалетные принадлежности
  - г) обезвоженная сухая пища и витамины
  - д) слегка обожжённые кусочки ваты
12. **Высокий уровень шума способен вызвать у человека**
- а) повышенное давление
  - б) головную боль
  - в) снижение иммунитета
  - г) боль в суставах
  - д) ухудшение координации
13. **Какое смысловое значение несёт синий цвет, используемый в знаках безопасности?**
- а) непосредственная опасность
  - б) аварийная или опасная ситуация
  - в) возможная опасность
  - г) предписание во избежание опасности
  - д) указание
14. **Укажите минимальную и максимальную скорость ветра при буре по шкале Бофорта**
- а) от 62 км/ч
  - б) от 60 км/ч

Задание 2

- в) до 101 км/ч
- г) до 120 км/ч
- д) до 110 км/ч

15. **К опасным геологическим явлениям относятся**

- а) магнитные бури
- б) гололёд
- в) землетрясения
- г) оползни
- д) обвалы

4

16. **При местной чрезвычайной ситуации**

- а) количество пострадавших человек 11-50
- б) прямой материальный ущерб до 100 минимальных зарплат
- в) прямой материальный ущерб 101-300 минимальных зарплат
- г) прямой материальный ущерб до 301-500 минимальных зарплат
- д) количество пострадавших человек 51-500

17. **К основным видам террористической деятельности относятся**

- а) криминальный терроризм
- б) классовый терроризм
- в) расовый терроризм
- г) государственный терроризм
- д) религиозный терроризм

18. **Какие нарушения в организме человека могут возникнуть при недостаточном поступлении йода с пищей?**

- а) ухудшение памяти
- б) снижение массы тела
- в) увеличение массы тела
- г) гиперактивность, суетливость
- д) повышение температуры тела

19. **При каких травмах и (или) состояниях пострадавшему придают оптимальное положение тела, изображённое на рисунке?**

- а) острая боль за грудиной
- б) большая кровопотеря
- в) отёк лёгких





Задание 2

- г) травма живота
- д) травма нижних конечностей

20. **Какие признаки характерны для инфаркта миокарда?**

- а) периодические покалывания в области сердца
- б) постоянная боль за грудиной с распространением в левую половину грудной клетки
- в) боль в области сердца при глубоком вдохе
- г) боль под левой лопаткой при движении
- д) бледность лица, холодный пот

Таблица ответов на тестовые задания теоретического тура

Номер теста	Верный ответ	Номер теста	Верный ответ
1	2	11	а, г 2
2	а	12	а, б -
3	а	13	з, г 4
4	в	14	а, в 4
5	а	15	з, д 4
6	б	16	а, в 4
7	б	17	а, з -
8	б	18	а, в 4
9	в	19	а, в 4
10	з	20	б, г 4

Максимум за тестовые задания 60 баллов.

48

Задание 2  
Теоретические задания

(за задание 10 баллов)

Впишите в таблицу название вида костра.

	колодец	2
	нодья	2
	Шведский	2
	звездочка	2
	шалаш	2

10

Задание 2

(За задания 10 баллов)

Опишите, состоящие из десяти пунктов, рекомендуемые правила поведения, если Вы оказались в заложниках.

- 1) Не поддавайтесь требованиям заложника
- 2) Не паниковать
- 3) Переносить оскорбления заложника
- 4) Не смотреть ему в глаза.
- 5) Не сопротивляться
- 6) Если нужна помощь говорить спокойно,
- 7) ~~Никогда~~ не говорить против его слов
- 8) Если позволяют

4

### Задание 3

( За задание 10 баллов)

Прочитайте текст.

А. Впишите пропущенные слова и числа.

Вы идёте по улице с другом и видите лежащего человека без признаков сознания (признаки биологической смерти отсутствуют).

1) проверить наличие признаков жизни, к которым относятся:

а) наличие (отсутствие) сознание \_\_\_\_\_;

б) наличие (отсутствие) пульса \_\_\_\_\_;

в) наличие (отсутствие) дыхание \_\_\_\_\_;

2) при отсутствии признаков жизни приступить к проведению сердечно-лёгочной реанимации, т. е. выполнить; искусственное дыхание

3) искусственное дыхание (вдоха), предварительно обеспечив проходимость дыхательных путей;

4) при появлении признаков жизни после проведения сердечно-лёгочной реанимации или при первоначальном их наличии у пострадавшего перевести пострадавшего в устойчивое боковое положение;

5) сделать 30 давлений на грудину пострадавшего;

6) оценить обстановку, обеспечить безопасные условия для оказания первой помощи;

7) контролировать признаки жизни до приезда скорой медицинской помощи;

8) попросить друга вызвать скорую медицинскую помощь.

Б. Расположите действия по оказанию первой помощи в порядке их выполнения. Запишите цифры, которыми обозначены действия, в правильной последовательности.

Ответ: 6, 4, 2, 5, 3, 1, 7

Максимум за работу — 90 баллов